

Kvinnor och män i näringslivet

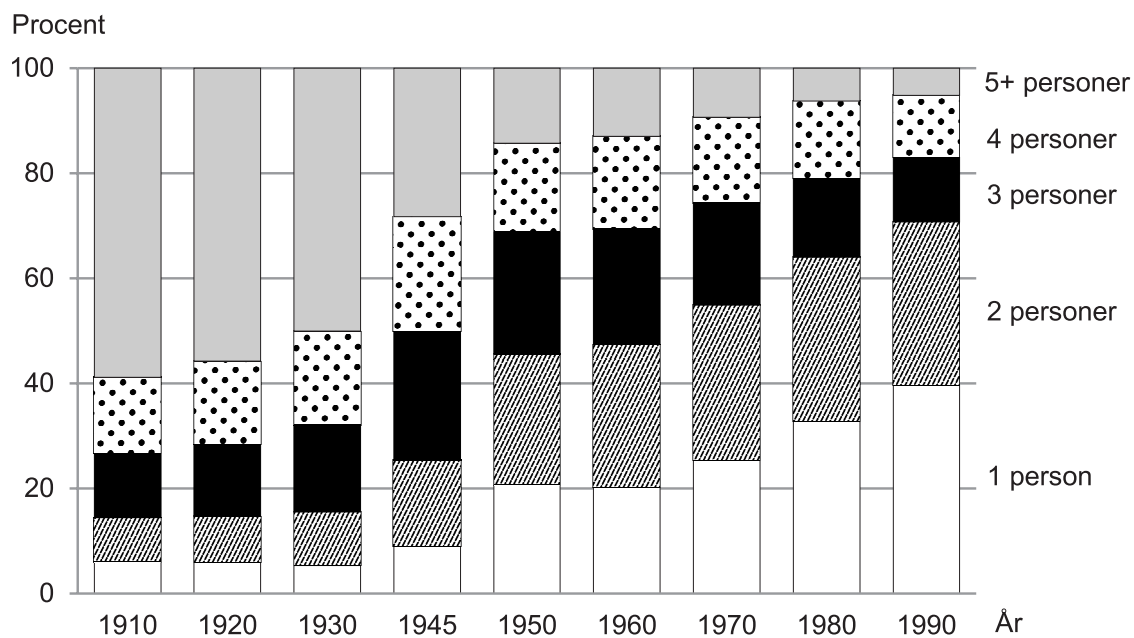
Antalet chefer respektive samtliga anställda inom privat sektor 2012, uppdelat på kvinnor och män samt på län.

Län	Chefer					Samtliga anställda				
	Antal			Könsfördelning %		Antal			Könsfördelning %	
	Kvinnor	Män	Totalt	Kvinnor	Män	Kvinnor	Män	Totalt	Kvinnor	Män
Gotlands län	170	310	470	35	65	4 340	6 770	11 110	39	61
Uppsala län	1 860	3 520	5 380	35	65	31 450	44 720	76 170	41	59
Stockholms län	19 340	37 410	56 750	34	66	325 010	415 850	740 860	44	56
Kronobergs län	710	1 520	2 240	32	68	15 430	31 760	47 190	33	67
Hallands län	1 160	2 700	3 870	30	70	26 710	37 850	64 560	41	59
Västerbottens län	1 080	2 530	3 600	30	70	20 560	37 270	57 830	36	64
Östergötlands län	1 730	4 240	5 970	29	71	42 940	67 030	109 970	39	61
Dalarnas län	890	2 270	3 160	28	72	25 010	48 230	73 250	34	66
Västra Götalands län	7 560	20 240	27 800	27	73	156 400	271 260	427 660	37	63
Jämtlands län	330	920	1 240	26	74	9 500	14 580	24 080	39	61
Örebro län	1 020	2 880	3 890	26	74	28 470	48 440	76 910	37	63
Norrbottnens län	690	2 020	2 710	26	74	17 950	33 860	51 820	35	65
Skåne län	5 820	17 300	23 120	25	75	115 720	185 960	301 690	38	62
Värmlands län	630	1 870	2 500	25	75	19 560	36 950	56 510	35	65
Södermanlands län	870	2 660	3 520	25	75	27 070	38 620	65 690	41	59
Västmanlands län	940	2 940	3 880	24	76	25 610	45 470	71 080	36	64
Blekinge län	300	970	1 270	24	76	8 480	17 660	26 140	32	68
Västernorrlands län	790	2 890	3 680	21	79	17 890	38 960	56 850	31	69
Gävleborgs län	840	3 250	4 090	20	80	21 150	38 040	59 190	36	64
Kalmar län	620	2 890	3 510	18	82	15 680	35 730	51 410	31	69
Jönköpings län	940	4 990	5 930	16	84	34 250	62 480	96 740	35	65
Hela riket	48 270	120 320	168 590	29	71	989 200	1 557 510	2 546 710	39	61

Uppgifter

29. Hur många av länen hade en större andel kvinnliga chefer än riket som helhet?
- A 4
 - B 6
 - C 12
 - D 14
30. Studera Gävleborgs län. Hur stor var skillnaden mellan andelen män bland samtliga anställda och andelen män bland chefer?
- A 8 procentenheter
 - B 10 procentenheter
 - C 13 procentenheter
 - D 16 procentenheter
31. Identifiera länet som hade den jämnaste könsfördelningen bland samtliga anställda. Vilket var förhållandet kvinnor : män bland cheferna i detta län?
- A 1:1
 - B 1:2
 - C 1:3
 - D 1:4

Hushållens storlek under 1900-talet

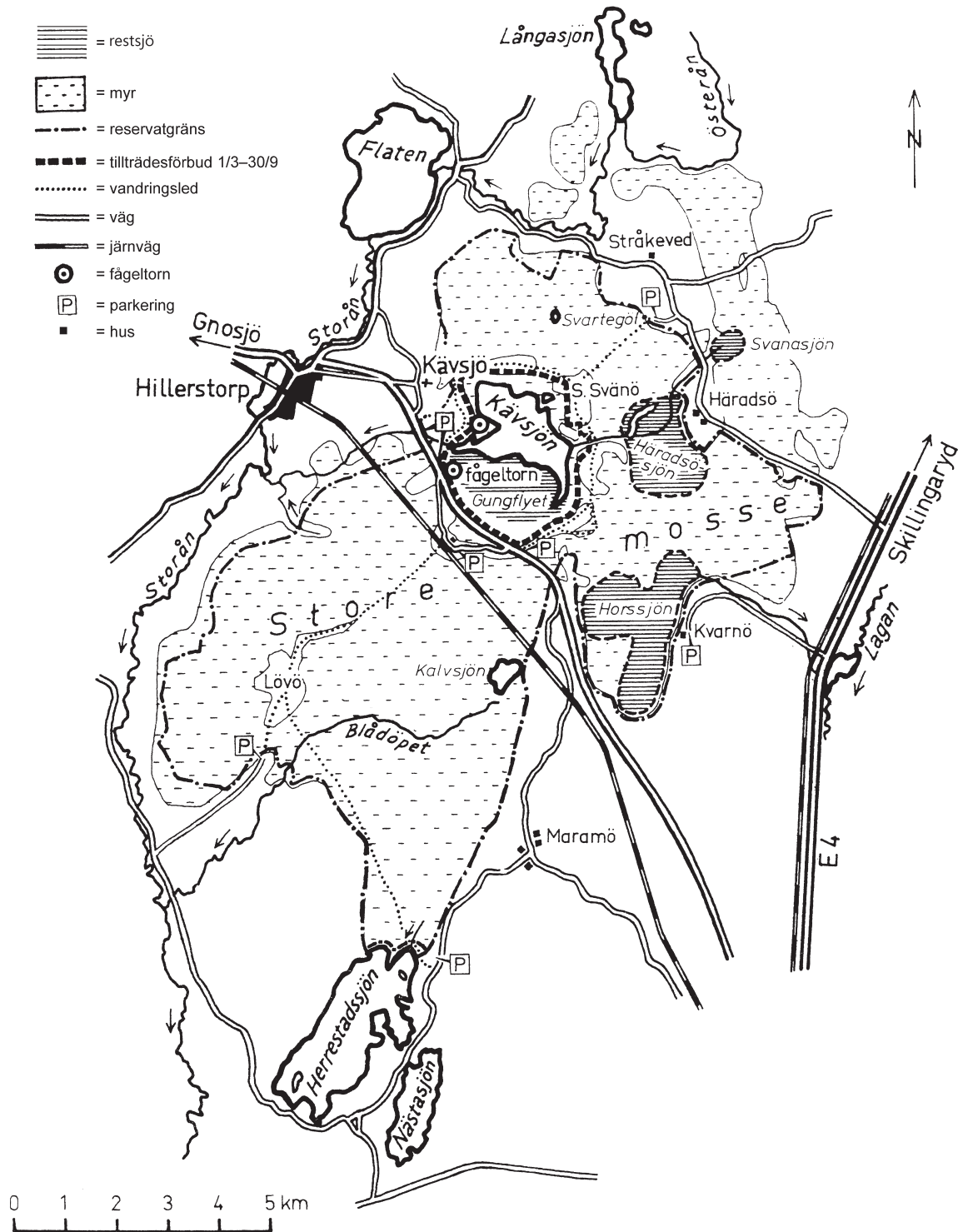


Sveriges hushåll procentuellt fördelade efter hushållsstorlek under 1900-talet.

Uppgifter

- 32.** Studera hur andelen hushåll med 3 personer har förändrats. **Mellan vilka av nedanstående år skedde den största förändringen, i procentenheter räknat?**
- A 1920 och 1930
 - B 1930 och 1945
 - C 1945 och 1950
 - D 1970 och 1980
- 33.** År 1980 fanns det cirka 3 498 000 hushåll i Sverige. **Hur många hade hushållsstorleken 2 personer?**
- A 1 100 000
 - B 1 400 000
 - C 1 700 000
 - D 2 300 000
- 34.** Jämför 1910 och 1990. **För vilken hushållsstorlek gällde att dess andel hade förändrats med 33 procentenheter?**
- A 5+ personer
 - B 4 personer
 - C 2 personer
 - D 1 person

Store mosse nationalpark

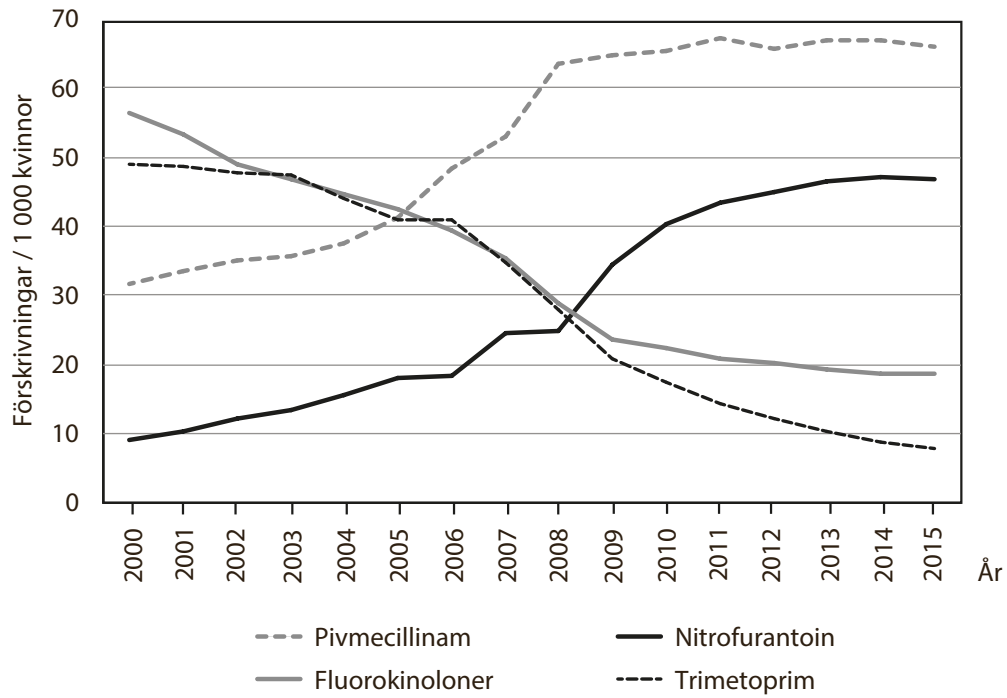


Karta över området kring Store mosse nationalpark i västra Småland på 1970-talet.

Uppgifter

35. Utgå från fågeltornet som ligger vid Gungflyet. **I vilken riktning ligger det andra fågeltornet?**
- A Sydsydostlig riktning
 - B Sydsydvästlig riktning
 - C Nordnordvästlig riktning
 - D Nordnordostlig riktning
36. **Hur stort är området som har tillträdesförbud perioden mars–september?**
- A 3 km²
 - B 7 km²
 - C 11 km²
 - D 15 km²
37. Utgå från den sydligast belägna parkeringen i området. Följ vandringsleden norrut fram till järnvägen. **Hur lång är sträckan?**
- A 6 km
 - B 8 km
 - C 11 km
 - D 13 km

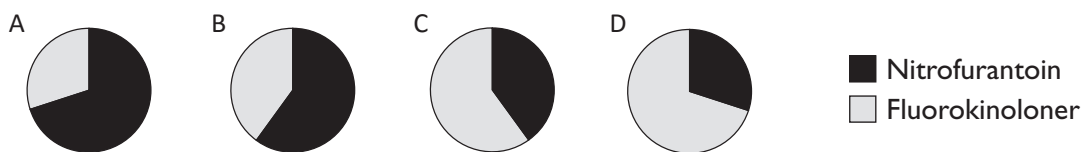
Förskrivning av antibiotika



Förskrivning av antibiotika för behandling av nedre urinvägsinfektioner (UVI) hos kvinnor i åldrarna 18–79 år under perioden 2000–2015. Antal förskrivningar per tusen kvinnor.

Uppgifter

38. Vilket cirkeldiagram illustrerar förhållandet mellan antalet förskrivningar per tusen kvinnor av nitrofurantoin och fluorokinoloner år 2013?



39. Hur stor andel av de redovisade antibiotikaförskrivningarna per tusen kvinnor år 2003 avsåg pivmecillinam?

- A 25 procent
B 35 procent
C 50 procent
D 75 procent
40. År 2011 var antalet kvinnor i åldrarna 18–79 år cirka 3,5 miljoner. Hur många förskrivningar gjordes totalt av de fyra redovisade antibiotikasorterna under detta år?
- A 145 000
B 350 000
C 510 000
D 675 000