

Föräldrapenning

Antalet mottagare av föräldrapenning i Sverige 2012 uppdelat efter kön. Därutöver anges antalet barn med förälder som mottagit föräldrapenning samt antalet uttagna föräldrapenningdagar (nettodagar) uppdelat efter mottagarens kön. Samtliga kategorier är sorterade efter ålder på den förälder som mottagit föräldrapenning.

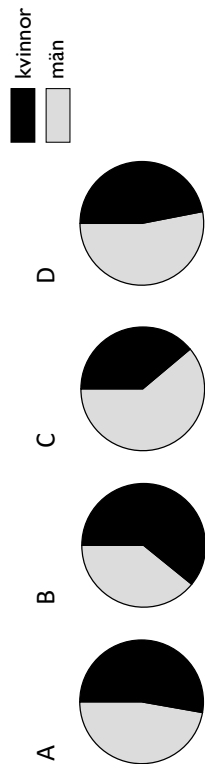
Ålder	Antal mottagare			Antal barn			Antal nettodagar ²⁾		
	Samtliga	Kvinnor	Män	Samtliga ¹⁾	Kvinnor	Män	Samtliga	Kvinnor	Män
Samtliga	743 560	410 314	333 246	660 567	38 370 595	12 407 072	50 777 667	38 370 595	12 407 072
-19	1 516	1 454	62	1 504	247 417	5 104	252 520	247 417	5 104
20-24	28 137	23 584	4 553	27 764	3 654 179	203 614	3 857 793	3 654 179	203 614
25-29	100 397	70 442	29 955	101 479	9 159 757	1 280 553	10 440 310	9 159 757	1 280 553
30-34	196 308	119 905	76 403	206 735	12 347 955	3 237 723	15 585 678	12 347 955	3 237 723
35-39	223 465	119 518	103 947	242 237	9 064 248	3 882 925	12 947 173	9 064 248	3 882 925
40-44	134 150	59 816	74 334	141 980	3 301 645	2 397 211	5 698 856	3 301 645	2 397 211
45-49	46 064	14 167	31 897	48 334	541 757	989 763	1 531 520	541 757	989 763
50-54	10 091	1 352	8 739	10 808	50 029	281 884	331 913	50 029	281 884
55-	3 432	76	3 356	3 702	3 608	128 296	131 904	3 608	128 296

¹⁾ Det totala antalet barn ("Samtliga") är mindre än en summering över åldersgrupperna. Detta beror på att ett och samma barn kan förekomma i fler än en åldersgrupp, beroende på vilken förälder som tar ut föräldrapenning.

²⁾ Dagar med partiell ersättning är omräknade till hela dagar.

Uppgifter

29. Identifiera åldersgruppen med störst antal mottagare av föräldrapenning. Vilket svarsförslag visar den procentuella fördelningen av kvinnor och män inom denna grupp?



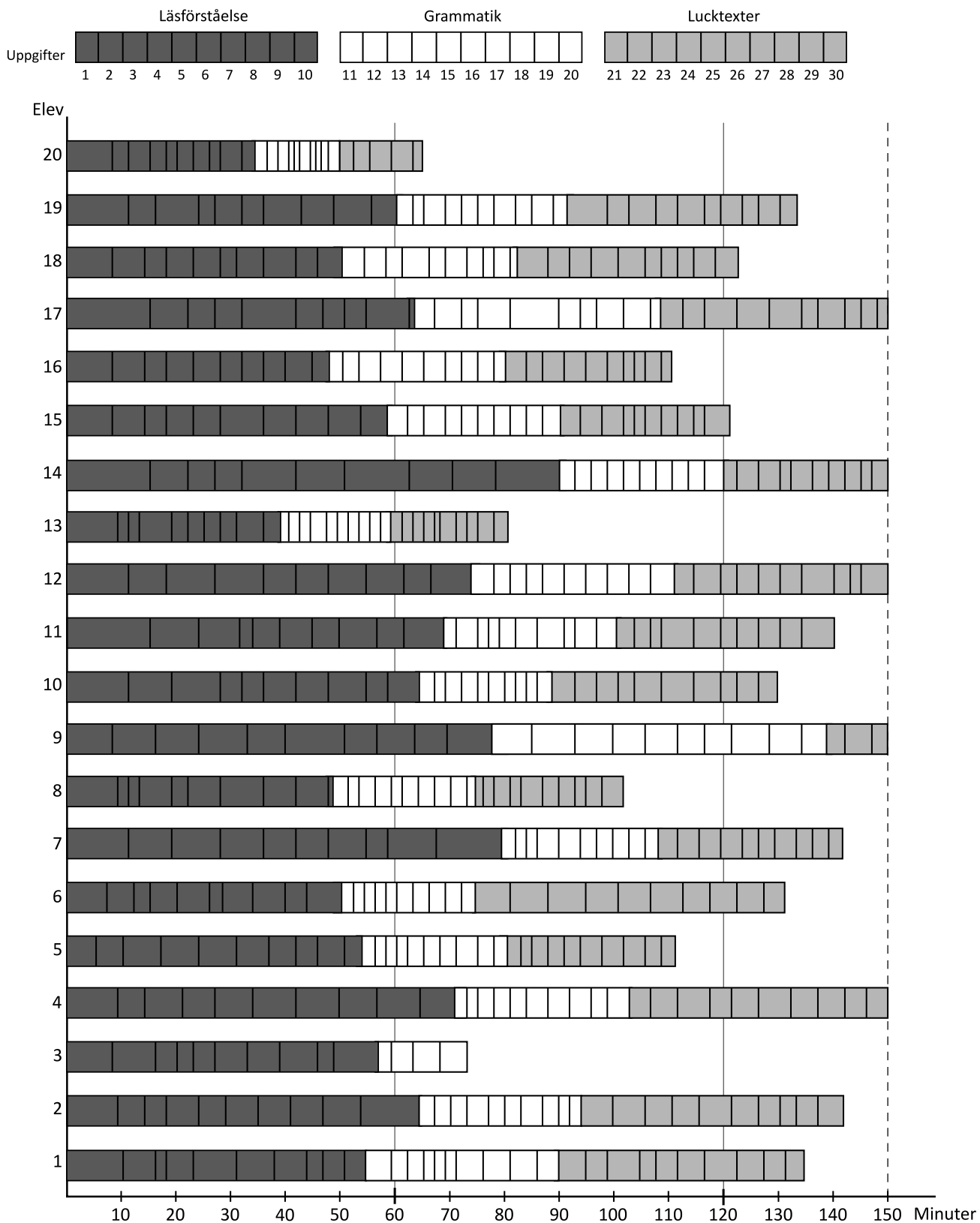
30. Hur många föräldrapenningdagar togs ut i genomsnitt per barn under 2012?

- A 36
B 55
C 68
D 77

31. Identifiera den åldersgrupp som tog ut flest föräldrapenningdagar. Hur stor andel av samtliga föräldrapenningdagar togs ut av föräldrar i denna grupp?

- A 20 procent
B 30 procent
C 40 procent
D 50 procent

Tidsanvändning vid ett språkprov



Tidsanvändning per uppgift och provdel för 20 elever som genomfört ett datorbaserat språkprov innehållande tre delar med tio uppgifter i varje del. Den totala provtiden var 150 minuter och eleverna besvarade uppgifterna i nummerordning. Figuren redovisar endast besvarade uppgifter.

Uppgifter

32. Vilken av följande elever besvarade uppgifterna i grammatikdelen på kortast tid?

- A Elev 1
- B Elev 8
- C Elev 10
- D Elev 14

33. Vilken uppgift arbetade flest elever med när exakt 30 minuter av provtiden hade gått?

- A Uppgift 4
- B Uppgift 5
- C Uppgift 6
- D Uppgift 7

34. Studera provtiden för de tre elever som inte besvarade alla uppgifter i provet. Hur lång tid använde de i genomsnitt till läsförståelsedelen?

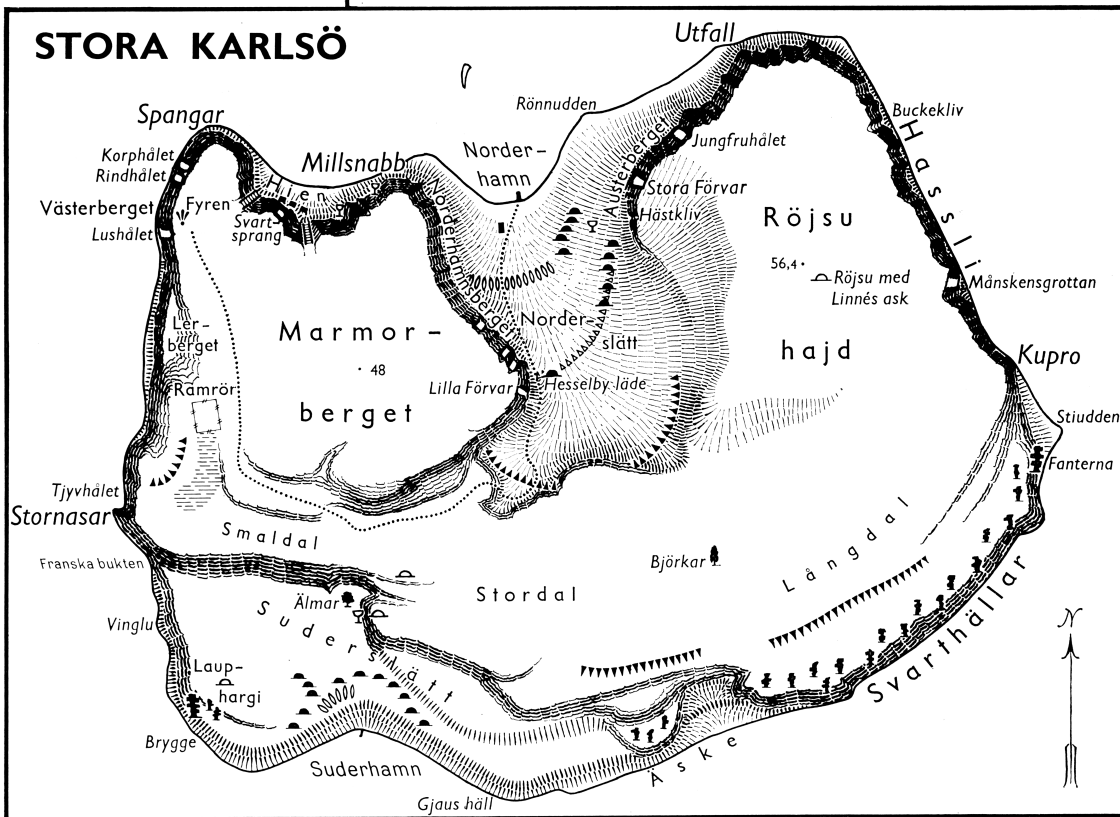
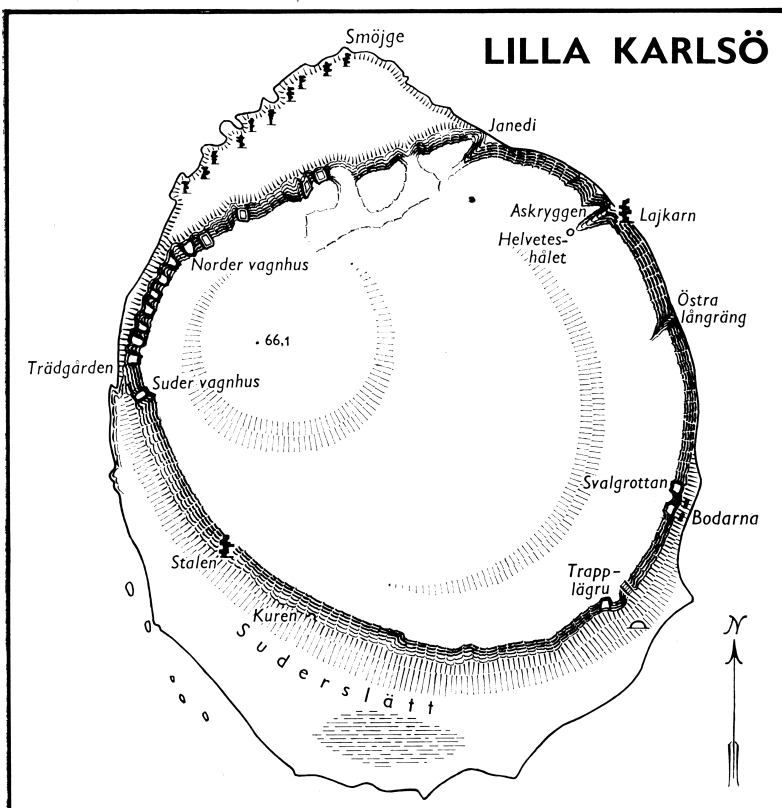
- A 45 minuter
- B 50 minuter
- C 55 minuter
- D 65 minuter

Karlsöarna

Teckenförklaring

- ▼▼▼▼ Ancyclusvallen
c:a 30 m.ö.h.
- ▼▼▼▼ Litorinavallen
c:a 20 m.ö.h.
- ▨▨▨▨ Issjögrotta
- ▨▨▨▨ Ancylogrotta
- ⚡⚡⚡⚡ Raukar eller raukartade klippartier
- ⚡ Större rauk
- ⌒ Bronsåldersröse
- ⌒ Järnåldersröse
- ⊖ "Båtgravar"
- ☐ Källa
- ▤ Trappa
- ⋯ Körväg
- ▨ Myr
- ⚡ Fyr

0 100 200 300 400 500 m



Lilla och Stora Karlsö, två öar utanför Gotlands västkust.

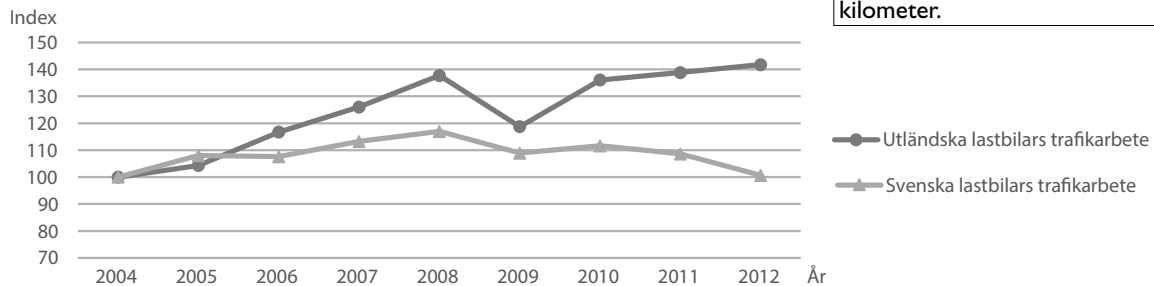
Uppgifter

35. Från fyren på Stora Karlsö kan man gå nedför en trappa till stranden och följa strandkanten till Norderhamn. Från fyren går också en körväg till Norderhamn. **Hur mycket längre blir det att ta körvägen?**
- A 800 meter
 - B 1 200 meter
 - C 1 700 meter
 - D 2 000 meter
36. Studera kartan över Lilla Karlsö. **På vilket avstånd och i vilken riktning från rauken vid Stalen ligger Helveteshålet?**
- A 630 meter i sydvästlig riktning
 - B 630 meter i nordostlig riktning
 - C 1 050 meter i sydvästlig riktning
 - D 1 050 meter i nordostlig riktning
37. Vid Hesselby läde på Stora Karlsö finns ett järnåldersröse. **Hur många grottor ligger inom en radie av 500 meter från detta röse?**
- A 3
 - B 4
 - C 5
 - D 6

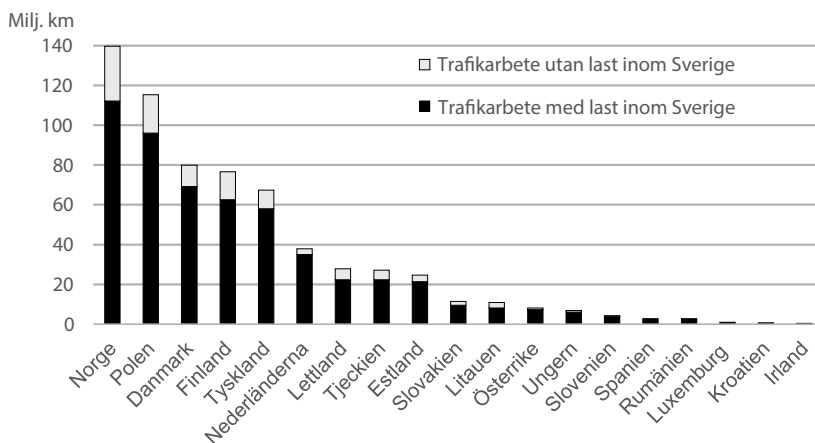
Lastbilstransporter på svenska vägar

Utländska lastbilars trafikarbete 2004 = 461 miljoner km
Svenska lastbilars trafikarbete 2004 = 2 227 miljoner km

Med utländska och svenska avses var lastbilarna är registrerade. Trafikarbete anger trafikens omfattning mätt i körda kilometer.

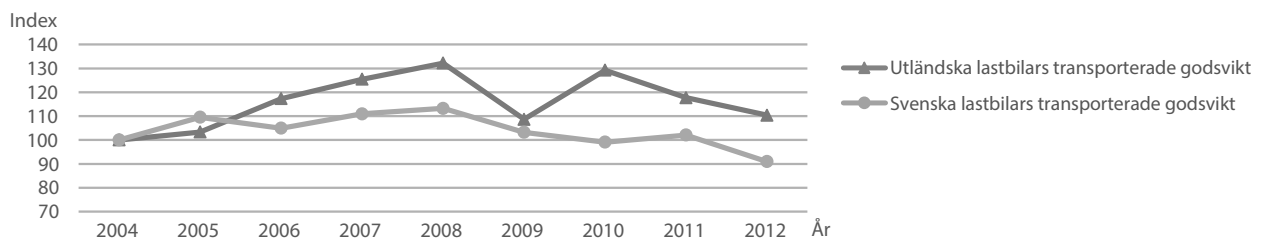


Utländska och svenska lastbilars trafikarbete på svenska vägar 2004–2012. Index 100 motsvarar trafikarbetet 2004.



Utländska lastbilars trafikarbete på svenska vägar 2012 uppdelat på länder samt transporter med respektive utan last. Miljoner kilometer.

Utländska lastbilars transporterade godsvikt 2004 = 20,8 miljoner ton
Svenska lastbilars transporterade godsvikt 2004 = 318,5 miljoner ton



Utländska och svenska lastbilars transporterade godsvikt på svenska vägar 2004–2012. Index 100 motsvarar godsvikten 2004.

Uppgifter

- 38. Vilket av följande år uppgick de svenska lastbilarnas transporterade godsvikt till omkring 350 miljoner ton?**
- A 2006
 - B 2007
 - C 2009
 - D 2012
- 39. Hur omfattande var utländska och svenska lastbilars totala trafikarbete på svenska vägar 2012?**
- A 2,5 miljarder km
 - B 2,7 miljarder km
 - C 2,9 miljarder km
 - D 3,6 miljarder km
- 40. Hur långt sammanlagt körde lastbilar från Norge, Danmark och Finland utan last på svenska vägar 2012?**
- A 50 miljoner km
 - B 70 miljoner km
 - C 230 miljoner km
 - D 280 miljoner km