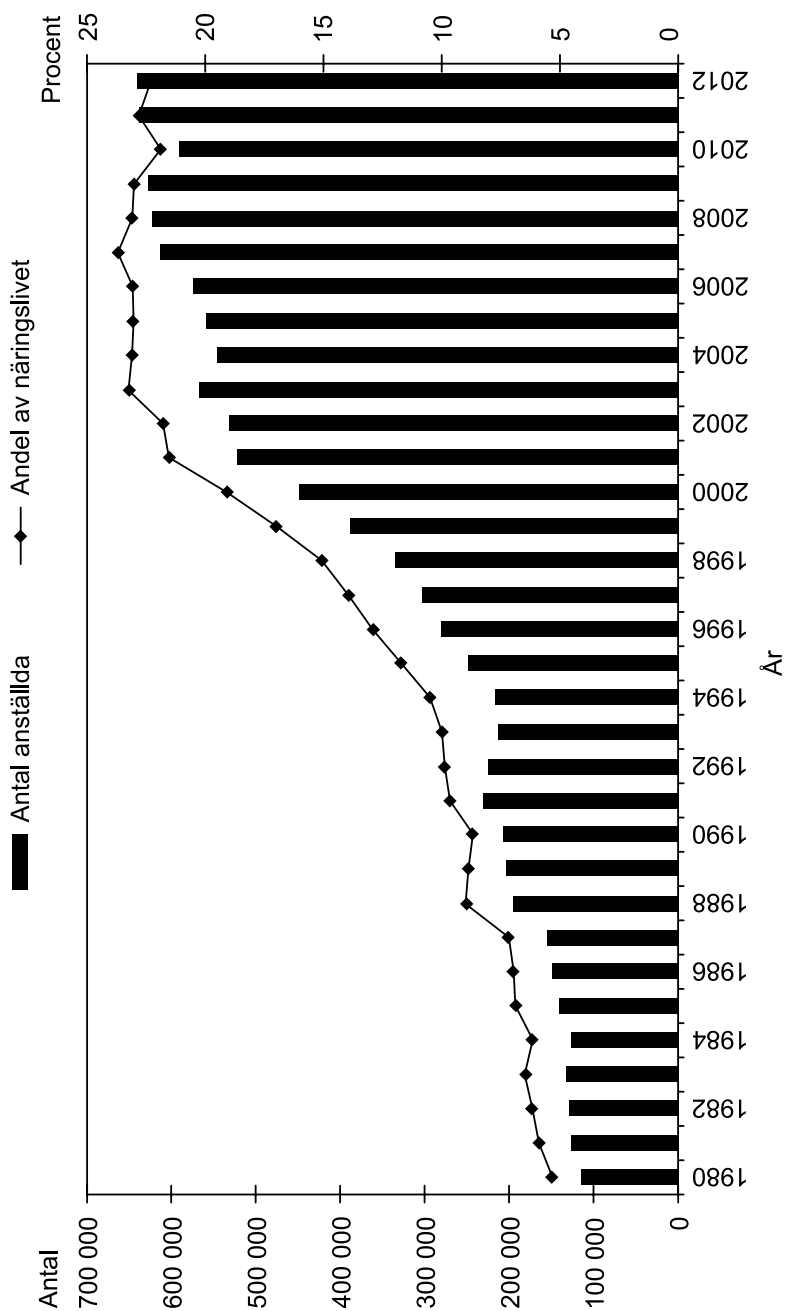


# Anställda i utlandsägda företag



Antalet anställda i utlandsägda företag i Sverige 1980–2012. Dessutom anges hur stor andel av näringslivets samtliga anställda som fanns i utlandsägda företag.

## Uppgifter

29. För hur många av de redovisade åren gäller att antalet anställda i utlandsägda företag minskade jämfört med närmast föregående år?

- A 5
- B 6
- C 7
- D 9

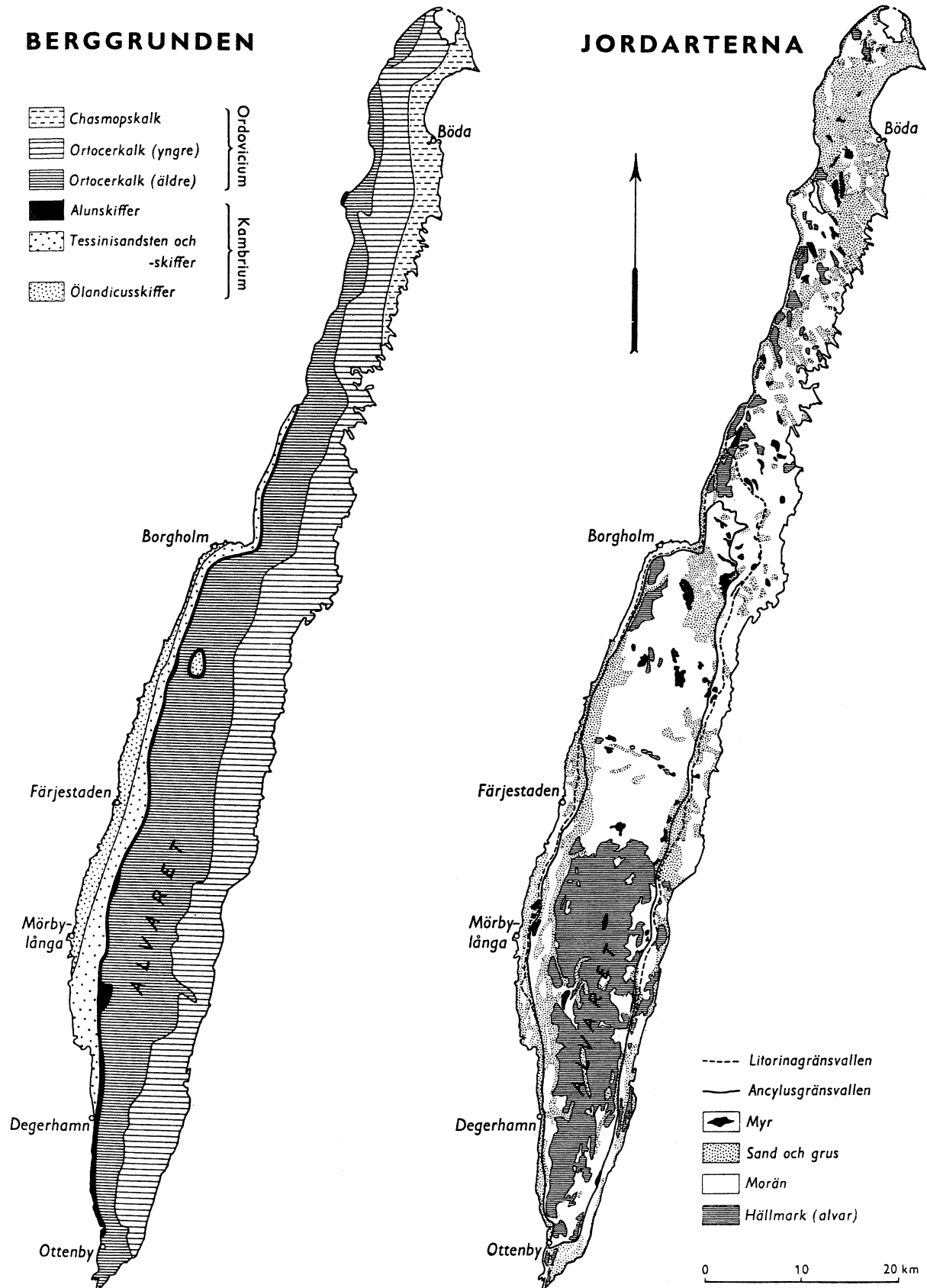
30. Vilket år var antalet anställda i utlandsägda företag 400 000–600 000 och utgjorde 15–20 procent av näringslivets samtliga anställda?

- A 1998
- B 1999
- C 2000
- D 2001

31. Studera hur många anställda i utlandsägda företag det fanns 1993 samt hur stor andel av näringslivets samtliga anställda de utgjorde. **Hur många anställda fanns det totalt inom näringslivet i Sverige detta år?**

- A 230 000
- B 1 575 000
- C 2 050 000
- D 2 850 000

# Berggrund och jordarter på Öland



## Uppgifter

- 32. Om man delar Öland i höjd med Borgholm i en nordlig och en sydlig del, vilken berggrund är då vanligast i den nordliga respektive sydliga delen?**
- A Ortocerkalk (yngre) respektive Ortocerkalk (äldre)
  - B Ortocerkalk (yngre) respektive Chasmopskalk
  - C Ortocerkalk (äldre) respektive Ortocerkalk (yngre)
  - D Chasmopskalk respektive Ortocerkalk (äldre)
- 33. Vilka två jordarter förekommer närmast Ölands östkust rakt öster om Mörbylånga?**
- A Myr samt morän
  - B Myr samt hållmark
  - C Sand och grus samt morän
  - D Sand och grus samt hållmark
- 34. För vilken ort gäller att den ligger i ett område med ölandicusskiffer och att närmaste förekomst av chasmopskalk finns cirka 70 km fågelvägen från orten?**
- A Borgholm
  - B Degerhamn
  - C Färjestaden
  - D Mörbylånga

# Svenskars internetanvändning

Andelen och antalet<sup>1</sup> personer som använde internet på olika platser 2010, totalt och uppdelat efter ålder och kön.

Ålder	Var	Andel i procent			Antal		
		Totalt	Män	Kvinnor	Totalt	Män	Kvinnor
16-24 år	I hemmet	<b>96</b>	96	96	<b>1 087 500</b>	556 400	531 100
	På arbetsplats	<b>28</b>	32	24	<b>314 400</b>	183 700	130 800
	I skolan	<b>55</b>	48	62	<b>620 000</b>	278 900	341 100
	I någon annans hem	<b>59</b>	59	58	<b>661 000</b>	343 800	317 200
	På annan plats	<b>28</b>	30	26	<b>317 400</b>	173 200	144 200
25-34 år	I hemmet	<b>97</b>	96	98	<b>1 117 200</b>	564 000	553 300
	På arbetsplats	<b>66</b>	73	59	<b>765 400</b>	432 100	333 400
	I skolan	<b>13</b>	11	14	<b>148 000</b>	67 300	80 600
	I någon annans hem	<b>46</b>	51	40	<b>526 500</b>	299 800	226 600
	På annan plats	<b>31</b>	34	27	<b>352 800</b>	202 000	150 700
35-44 år	I hemmet	<b>96</b>	96	95	<b>1 238 400</b>	632 900	605 500
	På arbetsplats	<b>78</b>	79	77	<b>1 003 300</b>	515 700	487 600
	I skolan	<b>4</b>	3	5	<b>52 600</b>	22 500	30 100
	I någon annans hem	<b>33</b>	36	30	<b>425 000</b>	236 900	188 200
	På annan plats	<b>24</b>	31	18	<b>314 800</b>	202 400	112 400
45-54 år	I hemmet	<b>92</b>	91	93	<b>1 121 700</b>	561 500	560 200
	På arbetsplats	<b>70</b>	68	71	<b>845 700</b>	419 100	426 600
	I skolan	<b>3</b>	3	4	<b>39 300</b>	17 000	22 300
	I någon annans hem	<b>18</b>	17	19	<b>213 800</b>	102 500	111 300
	På annan plats	<b>16</b>	21	12	<b>200 200</b>	128 800	71 400
55-64 år	I hemmet	<b>81</b>	80	82	<b>971 400</b>	479 100	492 300
	På arbetsplats	<b>53</b>	51	55	<b>636 700</b>	306 600	330 100
	I skolan	<b>1</b>	1	1	<b>15 100</b>	8 000	7 000
	I någon annans hem	<b>15</b>	14	16	<b>180 800</b>	82 600	98 200
	På annan plats	<b>15</b>	18	12	<b>175 900</b>	107 100	68 800
65-74 år	I hemmet	<b>56</b>	63	50	<b>514 100</b>	280 700	233 400
	På arbetsplats	<b>5</b>	6	3	<b>41 800</b>	28 200	13 600
	I skolan	<b>0</b>	0	-	<b>900</b>	900	-
	I någon annans hem	<b>5</b>	4	6	<b>43 800</b>	17 500	26 200
	På annan plats	<b>12</b>	14	11	<b>111 600</b>	61 900	49 800
Samtliga	I hemmet	<b>88</b>	<b>88</b>	<b>87</b>	<b>6 050 300</b>	<b>3 074 600</b>	<b>2 975 700</b>
	På arbetsplats	<b>52</b>	<b>54</b>	<b>50</b>	<b>3 607 300</b>	<b>1 885 300</b>	<b>1 722 000</b>
	I skolan	<b>13</b>	<b>11</b>	<b>14</b>	<b>875 900</b>	<b>394 700</b>	<b>481 200</b>
	I någon annans hem	<b>30</b>	<b>31</b>	<b>28</b>	<b>2 050 900</b>	<b>1 083 100</b>	<b>967 700</b>
	På annan plats	<b>21</b>	<b>25</b>	<b>18</b>	<b>1 472 700</b>	<b>875 400</b>	<b>597 400</b>

<sup>1</sup> Avrundat till närmaste hundratal.

## Uppgifter

**35. I vilken kategori noterades den största skillnaden i antal mellan män och kvinnor?**

- A 16–24-åringar som använde internet i skolan
- B 25–34-åringar som använde internet på arbetsplatsen
- C 25–34-åringar som använde internet på annan plats
- D 35–44-åringar som använde internet på annan plats

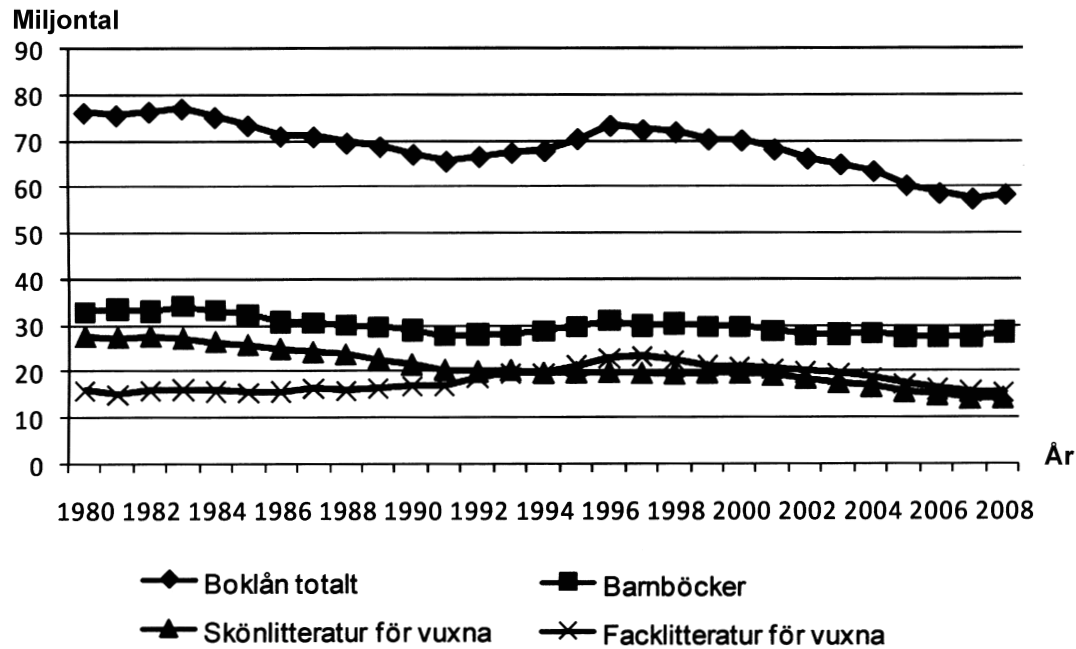
**36. I totalgruppen var de som använde internet hemma ungefär tre gånger så många som de som använde internet i någon annans hem. Vilken åldersgrupp var mest lik totalgruppen i detta avseende?**

- A 16–24-åringar
- B 25–34-åringar
- C 35–44-åringar
- D 45–54-åringar

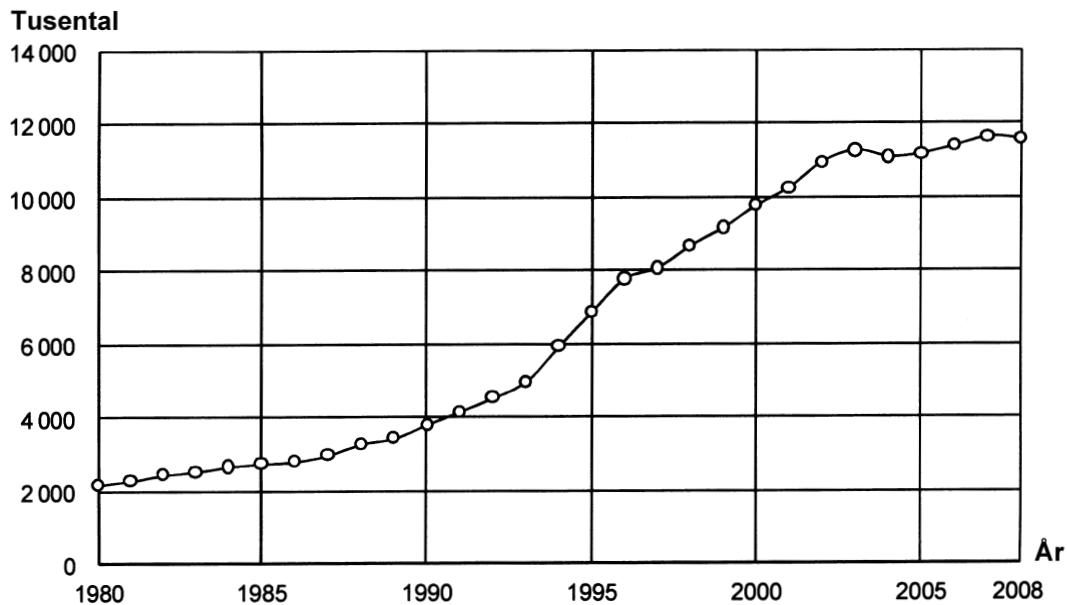
**37. Hur stor andel av alla som använde internet på arbetsplatsen var under 45 år?**

- A 78 procent
- B 58 procent
- C 48 procent
- D 28 procent

# Folkbibliotekens utlåning



Antalet utlån av böcker vid folkbiblioteken 1980–2008 totalt samt uppdelat på kategorier. Miljontal.



Antalet utlån av AV-medier<sup>1</sup> vid folkbiblioteken 1980–2008. Tusental.

<sup>1</sup> Audio-visuella medier som ljudböcker och dvd.

## Uppgifter

### 38. Vilket av följande år avses?

Antalet boklån totalt var mindre än 70 miljoner och antalet utlån av AV-medier ökade med en miljon jämfört med året innan.

- A 1991
- B 1993
- C 1994
- D 1996

### 39. I folkbibliotekens bokbestånd fanns 2008 cirka 40 miljoner böcker. **Hur många gånger i genomsnitt lånades en bok ut detta år?**

- A 0,70 gånger
- B 1,10 gånger
- C 1,45 gånger
- D 1,85 gånger

### 40. Hur många av boklånen år 2000 var utlån av barnböcker?

- A Fem av tio
- B Fyra av tio
- C Tre av tio
- D Två av tio