

Ekologisk odling av vårkorn

Skörd av och odlingsareal för ekologiskt odlat vårkorn 2008 fördelat på län och produktionsområden. Dessutom redovisas motsvarande siffror för hela riket åren 2003–2008.

Område	Antal undersökta företag ¹⁾	Hektar-skörd, kg/ha	Odlingsareal, ²⁾ hektar	Total skörd, ²⁾ ton
Län				
Stockholms	16	..	260	..
Uppsala	38	2 950	1 000	2 900
Södermanlands	35	2 540	710	1 800
Östergötlands	32	2 880	660	1 900
Jönköpings	30	2 830	680	1 900
Kronobergs	14	..	230	..
Kalmar	31	2 930	650	1 900
Gotlands	50	2 170	970	2 100
Blekinge	13	..	190	..
Skåne	58	3 130	1 360	4 300
Hallands	22	2 850	340	1 000
Västra Götalands	34	2 350	1 630	3 800
Värmlands	18	..	680	..
Örebro	11	..	260	..
Västmanlands	20	2 380	480	1 100
Dalarnas	41	2 610	1 150	3 000
Gävleborgs	41	2 600	1 520	3 900
Västernorrlands	21	3 060	660	2 000
Jämtlands	27	2 880	900	2 600
Västerbottens	24	2 370	790	1 900
Norrbottens	17	..	460	..
Produktionsområden				
Götalands södra slättbygder	31	3 320	750	2 500
Götalands mellanbygder	104	2 670	1 980	5 300
Götalands norra slättbygder	42	2 940	1 570	4 600
Svealands slättbygder	126	2 710	2 920	7 900
Götalands skogsbygder	99	2 470	2 260	5 600
Mellersta Sveriges skogsb.	68	2 400	1 930	4 600
Nedre Norrland	80	2 790	2 970	8 300
Övre Norrland	43	2 370	1 280	3 000
Hela Riket				
2008	593	2 660	15 510	41 300
2007	553	2 610	14 320	37 400
2006	495	2 060	15 290	31 500
2005	479	2 300	19 610	45 200
2004	509	2 540	21 620	54 800
2003	425	2 410	20 190	48 600
Genomsnitt 2003–2007		2 380	18 210	43 500

.. Skörder för län med färre än 20 företag anges ej.

¹⁾ Antal jordbruksföretag som ingår i skördeberäkningarna.

²⁾ En summering av länens respektive produktionsområdenas odlingsareal och totalskörd avviker, p.g.a. avrundningar och bortfall, från den summerade odlingsarealen respektive totalskörd för hela riket.

Uppgifter

29. När skedde den största procentuella förändringen av totalskörden i hela riket?

- A Från 2003 till 2004
- B Från 2004 till 2005
- C Från 2005 till 2006
- D Från 2006 till 2007

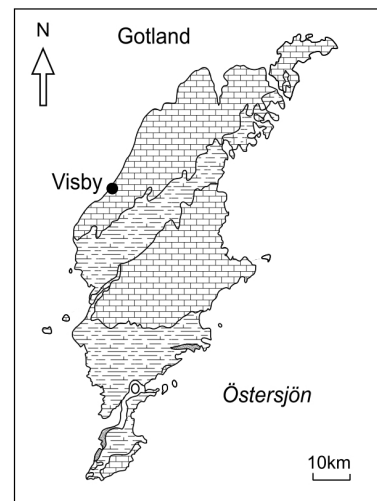
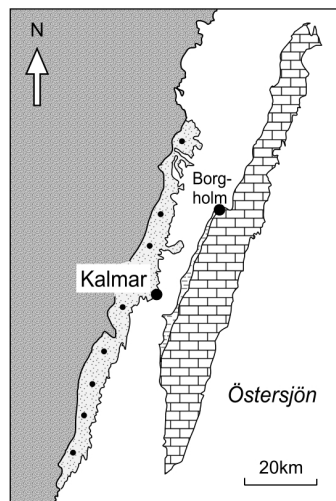
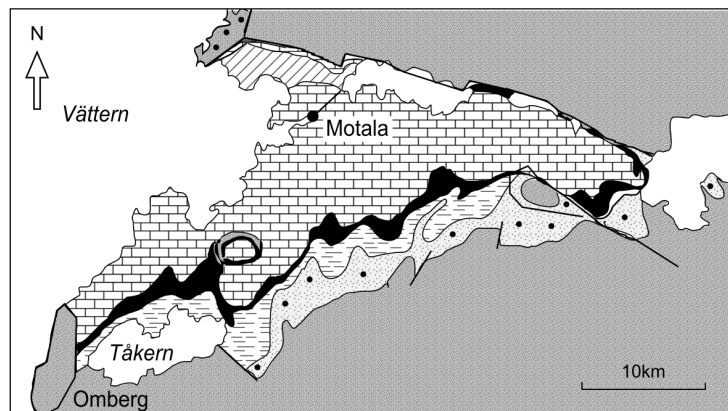
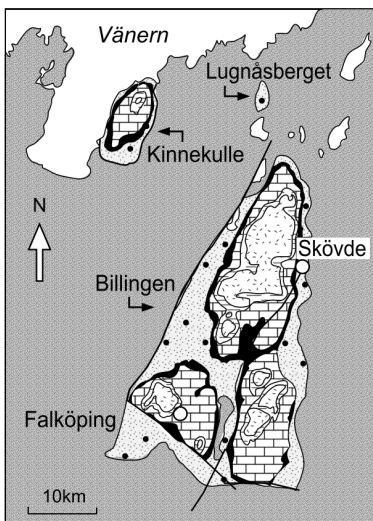
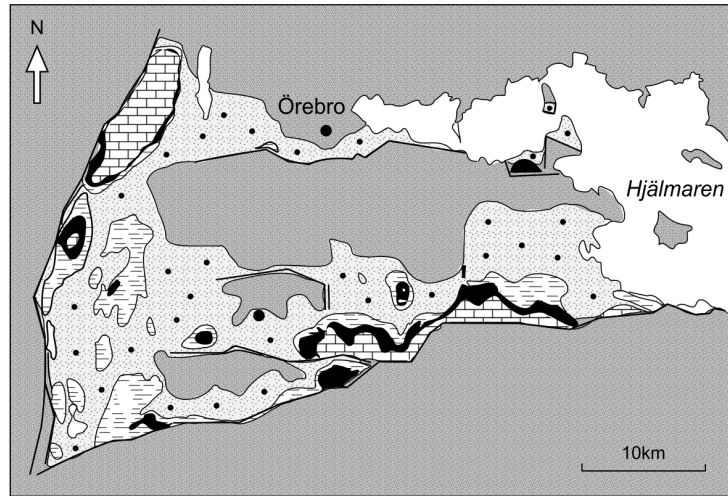
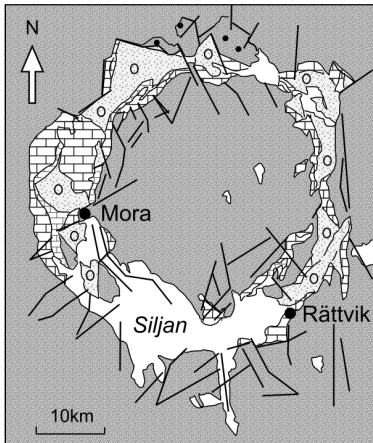
30. Hur stor andel av länen hade en odlingsareal som omfattade 1 000 hektar eller mer?

- A 15 procent
- B 25 procent
- C 30 procent
- D 40 procent

31. Hur stor var den genomsnittliga odlingsarealen per undersökt företag i Sverige 2008?

- A 25 hektar/företag
- B 70 hektar/företag
- C 260 hektar/företag
- D 740 hektar/företag

Fanerozoisk berggrund



Några områden i Sverige med fanerozoisk berggrund¹ samt berggrundens bergarter och ålder².

¹ Att berggrunden är fanerozoisk innebär att den bildades under den del av jordens utvecklingshistoria som inleddes för 542 miljoner år sedan.

² Silur: 416–444 miljoner år sedan
 Ordovicium: 444–488 miljoner år sedan
 Kambrium: 488–542 miljoner år sedan
 Prekambrium: tiden före kambrium

Uppgifter

32. I vilket av de avbildade områdena finns sandsten från både silur och prekambrium?

- A Mora/Rättvik
- B Örebro
- C Skövde/Falköping
- D Motala

33. Hur långt sträcker sig fältet med sandsten från kambrium i området där Kalmar ligger?

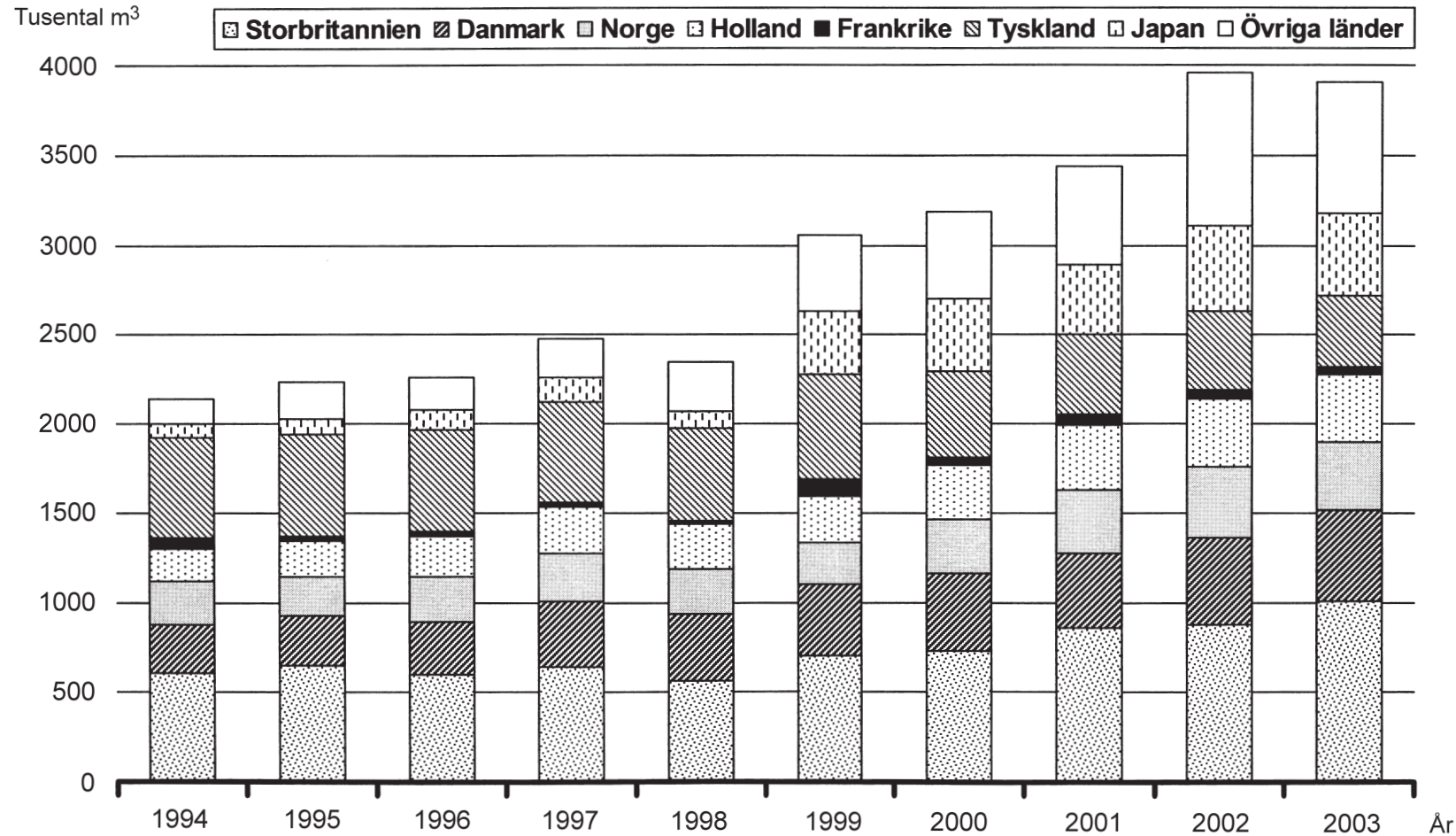
- A 55 km
- B 85 km
- C 110 km
- D 150 km

34. Vilken bergart finns 18 km rakt sydväst om Örebro?

- A Kalksten, slamsten från ordovicium
- B Alunskiffer från kambrium
- C Sandsten från kambrium
- D Prekambriskt urberg

Sveriges export av hyvlade trävaror

- 20 -



Sveriges export av hyvlade trävaror 1994–2003 fördelad på länder. Tusental kubikmeter (m³).

Uppgifter

35. Hur stor andel av Sveriges export av hyvlade trävaror 1994 respektive 2003 gick till Tyskland?

- A 1/3 respektive 1/5
- B 1/3 respektive 1/10
- C 1/4 respektive 1/5
- D 1/4 respektive 1/10

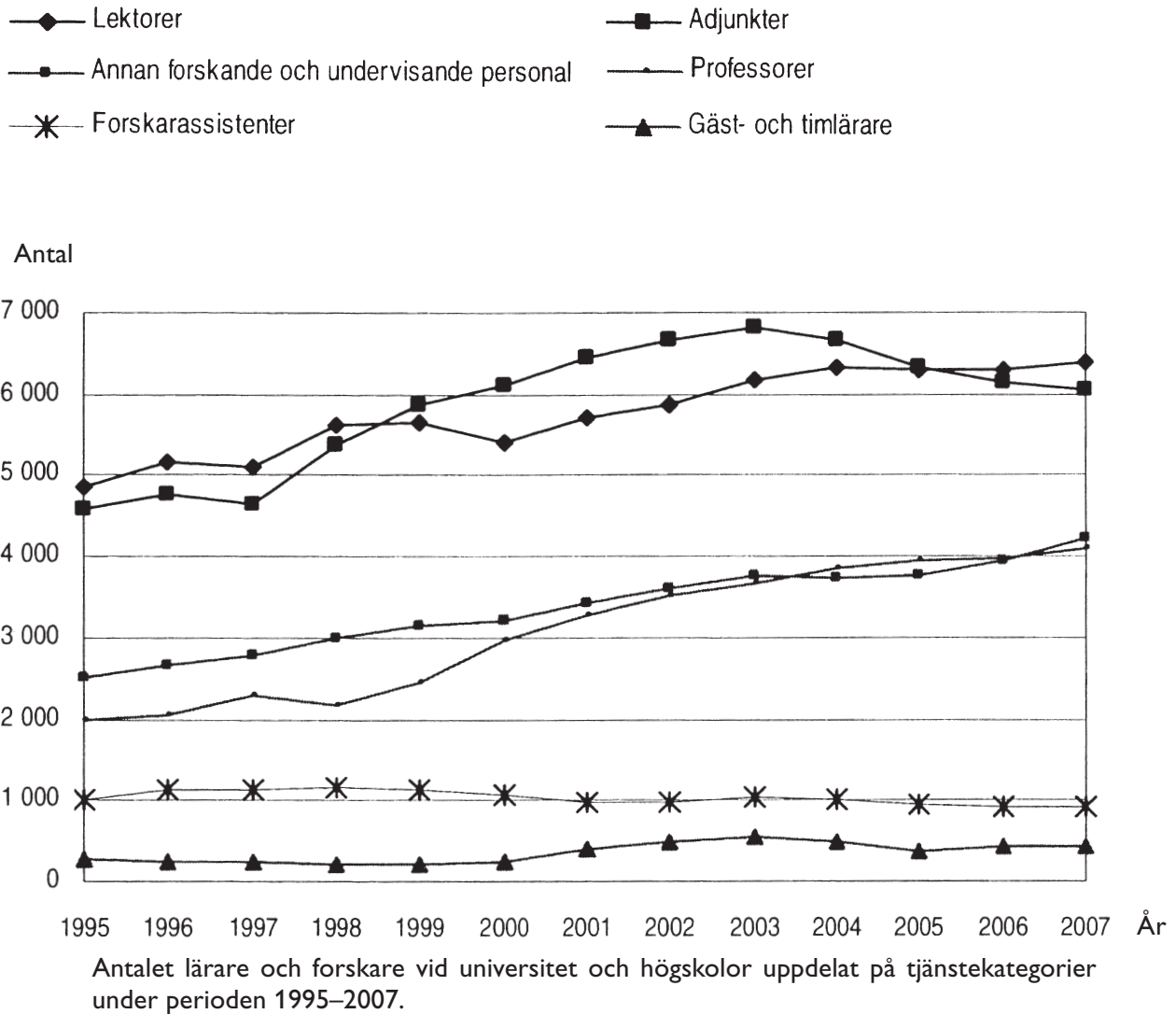
36. Hur stor var den sammanlagda exporten av hyvlade trävaror 2003 till de fyra namngivna länder som då importerade minst från Sverige?

- A 1 200 m³
- B 50 000 m³
- C 500 000 m³
- D 1 200 000 m³

37. År 2002 uppgick Sveriges totala produktion av trävaror till 16 000 000 kubikmeter. Av detta gick 11 500 000 kubikmeter på export. Hur stor andel av denna totala produktion respektive denna export utgjordes detta år av hyvlade trävaror som exporterades?

- A 25 respektive 25 procent
- B 25 respektive 35 procent
- C 35 respektive 25 procent
- D 35 respektive 35 procent

Lärare och forskare vid högskolan



Uppgifter

38. Hur stor andel av det totala antalet lärare och forskare 1997 utgjordes av professorer?

- A 10 procent
- B 15 procent
- C 20 procent
- D 25 procent

39. Hur många var adjunkterna jämfört med forskarassistenterna 2007?

- A En sjättedel så många
- B Två tredjedelar så många
- C Fem gånger så många
- D Sju gånger så många

40. Vilken tjänstekategori uppvisade den största procentuella förändringen av antalet personer från 2000 till 2001?

- A Lektorer
- B Adjunkter
- C Professorer
- D Gäst- och timplärare